

NOM :


PRÉNOM :

CLASSE :


SCORE : / 20

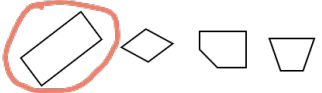

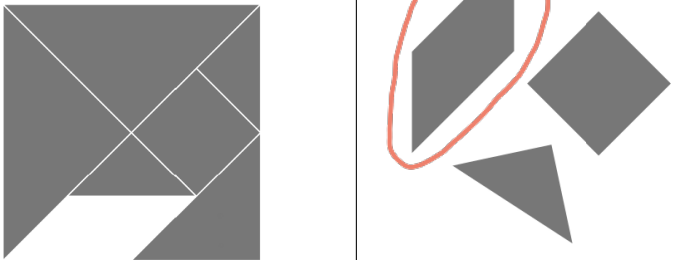

- ✓ *Durée : 10 minutes*
- ✓ *L'épreuve comporte 20 questions.*
- ✓ *L'usage de la calculatrice et du brouillon sont interdits.
Il n'est pas permis d'écrire des calculs intermédiaires.*

SUJET CP MARS 2025



La course aux nombres

	Énoncé	Réponse	Jury
1)	Calcule.	$16 - 7 = 9$.	
2)	Écris le plus petit nombre qui vient après 30 et qui finit par 8.	38 .	
3)	Complète.	20 25 30 35 40	
4)	Il y a dix chevaux. Certains sont dans le pré, d'autres dans l'écurie. Combien sont dans l'écurie ? 	7 chevaux sont dans l'écurie.	
5)	Complète	$27 + 10 = 37$	
6)	Le double de 8 est	16 .	
7)	Il y a 3 chiens. Combien y a-t-il de pattes en tout ?	12 .	
8)	Que faut-il ajouter à 7 pour obtenir 14 ?	7 .	
9)	Tu as 3 billets de 5 euros. Entoure la somme que tu as dans ton porte-monnaie.	8€ 20€ 15€	
10)	Marco avait 19 billes au début de la récréation. Il en a gagné 5. Combien a-t-il de billes maintenant ?	Marco a 24 billes	
11)	Calcule.	$8 + 9 = 17$.	
12)	Entoure le nombre le plus proche de 24.	30 20 27	

	Énoncé	Réponse	Jury
13)	La moitié de 12 est	6 .	
14)	Entoure le rectangle.		
15)	Ecris le nombre qui va dans la case grise.	22 24 30 32	
16)	Que faut-il empiler pour construire la plus grande tour : 5 cubes de hauteur 3 cm ou bien 4 cubes de hauteur 4 cm ?	Il faut empiler 4 cubes de hauteur 4 cm.	
17)	Sophie joue aux quilles : 	Sophie a gagné 18 points	
18)	Écris le nombre qui a 8 unités et 2 dizaines	28 .	
19)	Entoure la pièce qui manque pour compléter le carré 		
20)	Entoure le plus grand des deux nombres :	10 + 5 + 10 8 + 10 + 5	