

NOM :


PRÉNOM :

CLASSE :


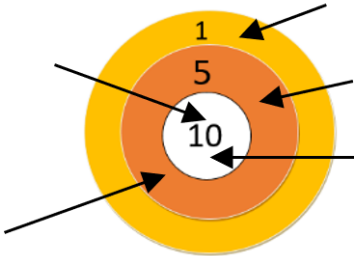
SCORE : / 20

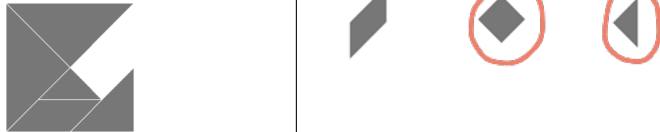


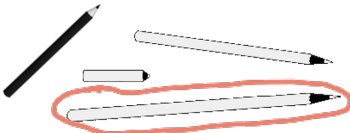
- ✓ *Durée : 10 minutes*
- ✓ *L'épreuve comporte 20 questions.*
- ✓ *L'usage de la calculatrice et du brouillon sont interdits.*
Il n'est pas permis d'écrire des calculs intermédiaires.

SUJET CP JUIN 2025



La course aux nombres

	Énoncé	Réponse	Jury					
1)	Calcule.	$30 - 7 = 23$						
2)	 Il y a 10 œufs dans chaque boîte.	Il y a 30 œufs en tout.						
3)	Quel nombre a 7 comme chiffre des dizaines et 0 comme chiffre des unités ?	70 soixante-dix						
4)	Quel est le double de 10 ?	20						
5)	Calcule.	$6 + 45 = 51$						
6)	Complète.	<table border="1" style="display: inline-table;"> <tr> <td>60</td> <td>55</td> <td>50</td> <td>45</td> <td>40</td> </tr> </table>	60	55	50	45	40	
60	55	50	45	40				
7)	Marco a enlevé deux dizaines à 35. Entoure le résultat.	55 15 33						
8)	Complète avec + ou -	$50 \dots 48 = 2$						
9)	Entoure le plus grand des deux nombres.	$30 + 1$ $7 + 29$						
10)	 La tireur à l'arc a marqué 31 points							

	Énoncé	Réponse	Jury						
11)	Ecris en chiffres le résultat de 4 dizaines + 3 dizaines.	70							
12)	Entoure le nombre le plus proche de 62.	52 59 67							
13)	La moitié de 40 est :	20							
14)	Entoure les deux pièces qui manquent.								
15)	Quel nombre j'obtiens si j'ajoute trois dizaines à 53 ?	83							
16)	 Les dés montrent de combien de cases la grenouille peut avancer. Entoure la case où elle arrive.								
17)	Zoé avait 17 billes. Elle en a gagné 5 puis elle en a perdu 7. Combien lui reste-t-il de billes ?	Il reste 15 billes à Zoé.							
18)	Combien faut-il de pièces de 2 € pour avoir 16 € ?	Il faut 8 pièces de 2 €							
19)	Entoure le crayon qui est deux fois plus grand que le crayon noir.								
20)	Ecris le nombre qui va dans la case grise.	<table border="1" style="display: inline-table;"> <tr> <td>12</td> <td>15</td> <td>18</td> <td></td> <td style="background-color: gray;">27</td> <td>30</td> </tr> </table>	12	15	18		27	30	
12	15	18		27	30				