

NOM :


PRÉNOM :

CLASSE :

SCORE : / 20

- ✓ *Durée : 10 minutes*
- ✓ *L'épreuve comporte 20 questions.*
- ✓ *L'usage de la calculatrice et du brouillon sont interdits.*
Il n'est pas permis d'écrire des calculs intermédiaires.

SUJET CP MARS 2024



La course aux nombres


MINISTÈRE
DE L'ÉDUCATION
NATIONALE,
DE LA JEUNESSE
ET DES SPORTS
*Liberté
Égalité
Fraternité*

ACADÉMIE
DE NORMANDIE

ACADÉMIE
DE VERSAILLES

ACADÉMIE
DE REIMS

ACADÉMIE
DE STRASBOURG

ACADÉMIE
DE RENNES

ACADÉMIE
DE NANTES

ACADÉMIE
DE DIJON


ACADÉMIE
DE NANCY-METZ

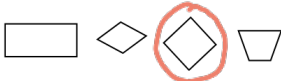

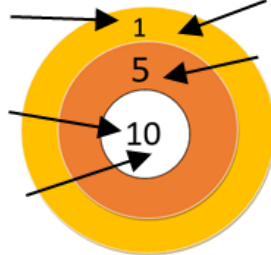


ACADÉMIE
DE TOULOUSE

ACADÉMIE
D'ORLÉANS-TOURS

ACADÉMIE
DE LYON



	Énoncé	Réponse	Jury					
1)	Calcule.	$10 - 6 = \dots 4 \dots$						
2)	Écris le nombre qui vient juste après 19	$\dots 20 \dots$						
3)	Complète.	<table border="1" style="display: inline-table; vertical-align: middle;"> <tr> <td>10</td> <td>15</td> <td>20</td> <td>25</td> <td>30</td> </tr> </table>	10	15	20	25	30	
10	15	20	25	30				
4)	Il y a 9 voitures garées. Combien sont cachées ? 	$\dots 5 \dots$ voitures sont cachées.						
5)	Complète.	$16 + \dots 10 \dots = 26$						
6)	Le double de 7 est	$\dots 14 \dots$						
7)	Il y a 4 vélos. Combien y a-t-il de roues ?	$\dots 8 \dots$						
8)	Pour aller de 6 à 12 tu ajoutes ?	$\dots 6 \dots$						
9)	Tu as 5 pièces de 2 euros, entoure la somme que tu as dans ton porte-monnaie.	7 <u>10</u> 25						
10)	Alice avait 17 billes au début de la récréation. Elle en a gagné 4. Combien a-t-elle de billes maintenant ?	$\dots 21 \dots$						

	Énoncé	Réponse	Jury							
11)	Calcule.	$8 + 9 = \dots 17 \dots$								
12)	Entoure le nombre le plus proche de 25.	20 30 <u>23</u>								
13)	La moitié de 18 est	$\dots 9 \dots$								
14)	Entoure le carré.									
15)	Écris le nombre qui va dans la case grise.	<table border="1" style="display: inline-table; vertical-align: middle;"> <tr> <td></td> <td></td> <td></td> <td>37</td> <td>38</td> <td style="background-color: #cccccc;">40</td> <td>42</td> </tr> </table>				37	38	40	42	
			37	38	40	42				
16)	Entoure la paille la plus longue.									
17)	Luc a tiré cinq flèches. 	Luc a $\dots 27 \dots$ points.								
18)	Écris le nombre qui a 6 unités et 3 dizaines.	$\dots 36 \dots$								
19)	Entoure le plus grand des deux nombres	<u>$20 + 4$</u> $4 + 18$								
20)	Deux balances sont équilibrées  Entoure l'objet le plus lourd.	 ou 