

NOM :


PRÉNOM :

CLASSE :

SCORE : / 20

- ✓ *Durée : 10 minutes*
- ✓ *L'épreuve comporte 20 questions.*
- ✓ *L'usage de la calculatrice et du brouillon sont interdits.*
Il n'est pas permis d'écrire des calculs intermédiaires.

SUJET CP JUIN 2024


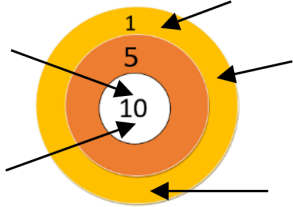




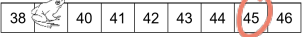



La course aux nombres


MINISTÈRE
DE L'ÉDUCATION
NATIONALE,
DE LA JEUNESSE
ET DES SPORTS
*Liberté
Égalité
Fraternité*

ACADÉMIE DE NORMANDIE ACADÉMIE DE VERSAILLES ACADÉMIE DE REIMS ACADÉMIE DE STRASBOURG
ACADÉMIE DE RENNES ACADÉMIE DE NANTES ACADÉMIE DE DIJON ACADÉMIE DE NANCY-METZ
ACADÉMIE DE TOULOUSE ACADÉMIE D'ORLÉANS-TOURS ACADÉMIE DE LYON



	Énoncé	Réponse	Jury					
1)	Calcule.	$20 - 6 = .14..$						
2)	 <p>Combien y a-t-il de roues ?</p>	Les 2 camionnettes ont <u>8</u> ...roues au total.						
3)	Quel nombre a 0 comme chiffre des unités et 18 dizaines ?	<u>180</u> ..						
4)	Quel est le double de 9 ?	<u>18</u> ..						
5)	Calcule.	$35 - 6 = .29..$						
6)	Complète.	<table border="1" data-bbox="611 715 913 742"><tr><td>45</td><td>50</td><td>55</td><td>60</td><td><u>65</u></td></tr></table>	45	50	55	60	<u>65</u>	
45	50	55	60	<u>65</u>				
7)	Quel est le premier nombre qui vient après 15 et qui se finit par 2	<u>22</u> ..						
8)	Complète.	$20 - .18 = 2$						
9)	Entoure le plus grand des deux nombres.	$30 + 1 \dots \dots .8 + 28$						
10)	 <p>Le score sur cette cible est <u>23</u>.. points.</p>							
11)	Écris en chiffres : 7 dizaines + 6 dizaines	<u>130</u> ..						
12)	Entoure le nombre le plus proche de 52.	42 <u>49</u> 57						

	Énoncé	Réponse	Jury
13)	La moitié de 20 est :	<u>10</u> ..	
14)	Entoure les triangles.		
15)	Quel nombre j'obtiens si j'ajoute une dizaine à 76 ?	<u>86</u>	
16)	 <p>La grenouille avance du nombre indiqué par les dés. Entoure la case où arrive la grenouille.</p>		
17)	Quel nombre pouvons nous placer dans la case grisée ?		
18)	Farah échange un billet de 10€ contre des pièces de 2€. Combien de pièces a-t-elle ?	Elle possède <u>5</u> .. pièces.	
19)	<p>Ces deux balances sont à l'équilibre. Entoure l'objet le plus lourd.</p> 		
20)	Zoé avait 18€. Elle reçoit un billet de 5€ et dépense 9€. Combien lui reste-t-il ?	Il reste <u>14</u> .. € à Zoé.	