

NOM : .....

PRÉNOM : .....

CLASSE : .....

SCORE : / 20

- ✓ *Durée : 10 minutes*
- ✓ *L'épreuve comporte 20 questions.*
- ✓ *L'usage de la calculatrice et du brouillon sont interdits.  
Il n'est pas permis d'écrire des calculs intermédiaires.*

## SUJET CP MARS 2023



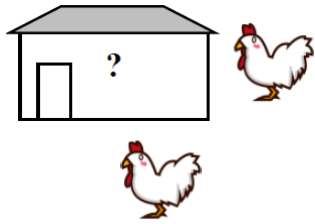




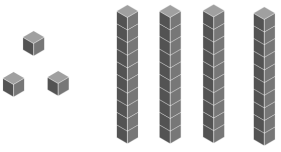
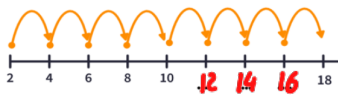
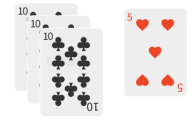
## La course aux nombres

  
MINISTÈRE  
DE L'ÉDUCATION  
NATIONALE,  
DE LA JEUNESSE  
ET DES SPORTS  
*Liberté  
Égalité  
Fraternité*

ACADÉMIE DE NORMANDIE    ACADÉMIE DE VERSAILLES    ACADÉMIE DE REIMS    ACADÉMIE DE STRASBOURG  
ACADÉMIE DE RENNES    ACADÉMIE DE NANTES    ACADÉMIE DE DIJON    ACADÉMIE DE NANCY-METZ  
ACADÉMIE DE TOULOUSE    ACADÉMIE D'ORLÉANS-TOURS    ACADÉMIE DE LYON



	Énoncé	Réponse	Jury
1)	Complète :	$27 + 10 = 37$	
2)	Le double de 9 est :	..18..	
3)	Avec deux billets de 5 € entoure le cadeau que tu peux acheter.	 13€    11€    9€	
4)	Termine le rectangle à main levée.		
5)	Complète :	$13 - 4 = 9$	
6)	Le fermier a 7 poules. Combien de poules sont dans le poulailler ? 	5. poules sont dans le poulailler.	
7)	Écris le nombre sous la flèche.		
8)	Dans le pré, il y a 3 lapins. Combien vois-tu d'oreilles ?	6. oreilles	
9)	Complète :	$7 + 8 = 15$	
10)	Écris le nombre qui vient après 9 et qui finit par 5.	..15..	

	Énoncé	Réponse	Jury
11)	La moitié de 12 est	..6..	
12)	Entoure l'enfant qui suit le troisième.		
13)	Écris en chiffres.	 ..43..	
14)	Écris les nombres qui manquent.		
15)	Complète :	Dans 3 semaines, il y a 21 jours	
16)	Complète avec < ou >	2 dizaines + 5 unités > 20	
17)	Combien de points a Sacha ? (Un point par symbole)	 ..35 points	
18)	Complète :	$4 + 6 = 10$	
19)	Entoure le nombre le plus proche de 30 :	38    28    31	
20)	Lola avait 17 billes. Maintenant, elle en a 13. Combien a-t-elle perdu de billes ?	..4.. billes	