

NOM :


PRÉNOM :

CLASSE :

SCORE : / 20

- ✓ *Durée : 10 minutes*
- ✓ *L'épreuve comporte 20 questions.*
- ✓ *L'usage de la calculatrice et du brouillon sont interdits.
Il n'est pas permis d'écrire des calculs intermédiaires.*

SUJET CP Mai-Juin 2023



La course aux nombres






MINISTÈRE
DE L'ÉDUCATION
NATIONALE,
DE LA JEUNESSE
ET DES SPORTS
*Liberté
Égalité
Fraternité*





ACADÉMIE DE NORMANDIE ACADÉMIE DE VERSAILLES ACADÉMIE DE REIMS ACADÉMIE DE STRASBOURG

ACADÉMIE DE RENNES ACADÉMIE DE NANTES ACADÉMIE DE DIJON ACADÉMIE DE NANCY-METZ

ACADÉMIE DE TOULOUSE ACADÉMIE D'ORLÉANS-TOURS ACADÉMIE DE LYON



	Énoncé	Réponse	Jury
1	Complète.	$17 + 3 = 20$	
2	Le double de 8 est16.....	
3	Combien manque-t-il d'euros pour avoir 12 euros ? 	Il manque6..... euros.	
4	Entoure le carré		
5	Complète.	$33 - 4 = 29$	
6	L'immeuble a 12 fenêtres. Combien de fenêtres sont cachées derrière l'arbre ? 4.....	
7	Ecris le nombre sous la flèche.		
8	Tu vois 5 vélos dans un parking. Combien vois-tu de roues ?10.....	
9	Complète.	$17 + 8 = 25$	
10	Ecris le nombre qui est entre 30 et 40 et qui se termine par 8.38.....	

	Énoncé	Réponse	Jury
11	La moitié de 18 est9.....	
12	Entoure le 7 ^{ème} caneton en partant de la gauche. 		
13	Quel est mon score ? Entoure la bonne réponse.	 46 (64) 10	
14	Ecris les nombres du plus petit au plus grand	48 34 82 43 50 34 < 43 < 48 < 50 < 82	
15	Quel mois vient juste après le mois de janvier ?	C'est le mois defévrier.....	
16	Complète avec < ou >	6 unités et 3 dizaines ..<.. 50	
17	Entoure l'animal le plus lourd. 		
18	Complète.	$40 + 30 = 70$	
19	Entoure le nombre le plus proche de 60.	65 (57) 71	
20	Lola avait 18 points. Maintenant elle a 22 points. Combien a-t-elle gagné de points ?4.....	