

Nom :


Prénom :

Score : /20




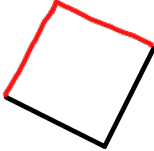




Classe :

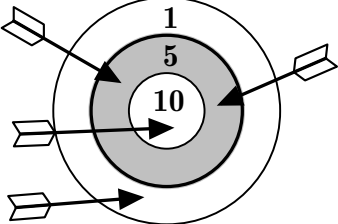
- ✓ *Durée : 10 minutes*
- ✓ *L'épreuve comporte 20 questions.*
- ✓ *L'usage de la calculatrice et du brouillon sont interdits. Il n'est pas permis d'écrire des calculs intermédiaires.*

Sujet CP mars 2022



La course aux nombres

	Énoncé	Réponse	Jury						
1)	Complète.	$32 + 10 = 42$							
2)	Le double de 7 est	14							
3)	Avec un billet de 10 € et un billet de 5 €, entoure un jouet que tu peux acheter.	   14 € 17 € 20 €							
4)	Termine le carré à main levée.								
5)	Complète.	$12 - 4 = .. 8 ..$							
6)	Le berger a 8 moutons. Combien dorment dans la bergerie ?    	5.. moutons dorment dans la bergerie.							
7)	Écris le nombre qui va dans la case grise.	<table border="1" data-bbox="607 1062 938 1118"> <tr> <td></td> <td>27</td> <td></td> <td>30</td> <td>31</td> <td>32</td> </tr> </table> ...		27		30	31	32	
	27		30	31	32				
8)	Dans la cour, il y a 5 poules. Combien comptes-tu de pattes ?	10 pattes							
9)	Complète.	$7 + 6 = 13$							
10)	Écris le nombre qui finit par 0 et qui vient après 14.	20							

	Énoncé	Réponse	Jury
11)	La moitié de 20 est	10	
12)	Écris en chiffres.	8 unités et 4 dizaines c'est .48..	
13)	Écris le nombre qui manque dans cette suite logique.	6 ; 16 ; 26 ; 36 ; 46	
14)	Aujourd'hui, nous sommes vendredi, hier nous étions ...	jeudi	
15)	Complète avec « < » ou « > ».	3 dizaines + 1 unité > 29	
16)	Combien de points a Lucie ? 	..21.. points	
17)	Complète.	$2 + . 8 = 10$	
18)	Entoure le nombre le plus proche de 40.	50 ; 37 ; 45	
19)	Tom avait 18 cartes. Il perd des cartes. Maintenant, il en a 12. Combien a-t-il perdu de cartes ?	Il a perdu 6. cartes.	
20)	Entoure le crayon le plus court.	