

NOM:

PRÉNOM:

SCORE: /20

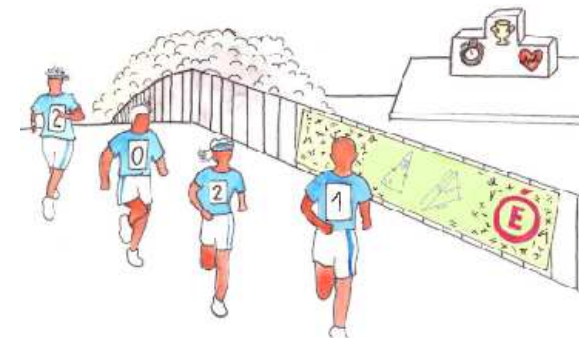
CLASSE:

✓ *Durée: 10 minutes*

✓ *L'épreuve comporte 20 questions.*

✓ *L'usage de la calculatrice et du brouillon sont interdits. Il n'est pas permis d'écrire des calculs intermédiaires.*

SUJET CP JUIN 2021



Lucie Puch, élève du lycée Fustel de Coulanges - Strasbourg

ACADÉMIE
DE NANCY-METZ

ACADÉMIE
DE LYON




ACADÉMIE
DE REIMS

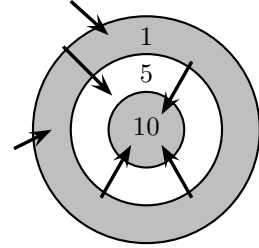
ACADÉMIE
DE NORMANDIE

ACADÉMIE
DE STRASBOURG

ACADÉMIE
DE VERSAILLES

ACADÉMIE
DE TOULOUSE

	ÉNONCÉ	RÉPONSE	JURY					
1)	Complète.	$25 + 10 = 35$..						
2)	La moitié de 12 est :	..6..						
3)	Complète.	$10 + 4 + 6 = 20$..						
4)	Complète la case grise de la frise numérique.	<table border="1" style="display: inline-table; border-collapse: collapse;"><tr><td style="width: 20px; height: 20px;">68</td><td style="width: 20px; height: 20px;"></td><td style="width: 20px; height: 20px; background-color: #cccccc;">72</td><td style="width: 20px; height: 20px;"></td><td style="width: 20px; height: 20px;">75</td></tr></table>	68		72		75	
68		72		75				
5)	Complète.	$11 - 3 = 8$.						
6)	Combien ai-je d'argent ? 	J'ai ..13.. €.						
7)	Écris en chiffres :	9 u et 5 d = ..59..						
8)	Moussa a 4 paquets de 5 images. Combien a-t-il d'images en tout ?	Il a ..20.. images.						
9)	Complète.	$7 + 8 = 15$...						
10)	36 pour aller à 40 ?	...4..						

	ÉNONCÉ	RÉPONSE	JURY					
11)	Le double de 8 est :	..16..						
12)	Ugo a 12 bonbons. Il en mange au goûter. Maintenant, il en a 5. Combien a-t-il mangé de bonbons ?	..7.. bonbons.						
13)	Complète.	$34 + 20 = 54$..						
14)	Écris le nombre qui manque dans cette suite logique.	<table border="1" style="display: inline-table; border-collapse: collapse;"><tr><td style="width: 20px; height: 20px;">47</td><td style="width: 20px; height: 20px;">57</td><td style="width: 20px; height: 20px;">67</td><td style="width: 20px; height: 20px;">77</td><td style="width: 20px; height: 20px; border: 2px solid red;">87</td></tr></table>	47	57	67	77	87	
47	57	67	77	87				
15)	J'ai 15 billes dans ma trousse. 9 billes sont rouges et les autres billes sont vertes. Combien ai-je de billes vertes ?	...6.. billes vertes.						
16)	Complète avec < ou >	$56 + 4 < 61$						
17)	Combien de points a Alex ? 	37						
18)	Entoure le plus grand nombre.	58 85 69						
19)	Complète.	$52 + 8 = 60$						
20)	Complète.	$76 - 20 = 56$..						