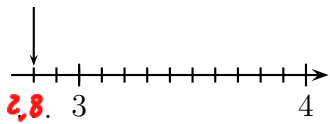
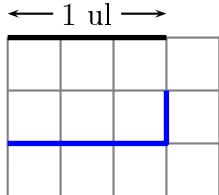


	ÉNONCÉ	RÉPONSE	JURY
23)	Complète.		
24)	Sachant que $13 \times 17 = 221$ , complète.	$221 \div 13 = 17$	
25)	Complète par un nombre qui convient.	$3,6 < 3,65 < 3,7$	
26)	$3\ 000 - 80$	2920	
27)	Quelle est la longueur de la ligne bleue en unité de longueur (ul)? 	$\frac{4}{3}$ ul	
28)	Complète.	$17\text{ cm} + 2\text{ m} = 2,17\text{ m}$	
29)	$60 \div 4$	15	
30)	Une usine fabrique des tasses de 2 tailles différentes. Pour chaque taille, 4 couleurs sont possibles.	Cette usine peut fabriquer 8 tasses différentes.	

NOM : .....

PRÉNOM : .....

SCORE : /30

CLASSE : CM2 .....

✓ *Durée : 9 minutes*

✓ *L'épreuve comporte 30 questions.*

✓ *L'usage de la calculatrice et du brouillon sont interdits. Il n'est pas permis d'écrire des calculs intermédiaires.*

## SUJET CM2 JUIN 2024



  
 MINISTÈRE  
 DE L'ÉDUCATION  
 NATIONALE,  
 DE LA JEUNESSE  
 ET DES SPORTS  
Liberté  
Égalité  
Fraternité

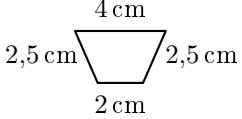
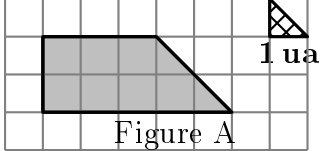
ACADÉMIE DE NORMANDIE    ACADÉMIE DE VERSAILLES    ACADÉMIE DE REIMS    ACADÉMIE DE STRASBOURG

ACADÉMIE DE RENNES    ACADÉMIE DE NANTES    ACADÉMIE DE DIJON    ACADÉMIE DE NANCY-METZ

ACADÉMIE DE TOULOUSE    ACADÉMIE D'ORLÉANS-TOURS    ACADÉMIE DE LYON



	ÉNONCÉ	RÉPONSE	JURY
1)	$4 \times 8$	<b>32</b>	
2)	$200 - 99$	<b>101</b>	
3)	Écris le nombre égal à <b>4 centaines et 20 dizaines</b>	<b>600</b>	
4)	2 carrés de chocolat pèsent 8 g.	<b>. 20 .</b> carrés de chocolat pèsent 80 g.	
5)	Complète.	$14 + 2 = \mathbf{. 8 .} \times 2$	
6)	Avec 10 €, j'achète un livre à 4,90 €. <b>Combien me rend-on ?</b>	<b>5,10 .</b> €	
7)	Complète.	<b>. 3 .</b> $\times$ <b>. 7 .</b> = 21	
8)	Un fleuriste a 70 roses. <b>Combien de bouquets de 5 roses peut-il faire au maximum ?</b>	<b>14 .</b> bouquets	
9)	Complète.	1 L = <b>. 1000 .</b> mL	
10)	Entoure la réponse possible.	La hauteur d'une porte est : 20 cm <b>20 dm</b> 20 m	
11)	Entoure le plus grand nombre.	<b>3 dixièmes</b> 15 centièmes	
12)	$50 \times 15 \times 2$	<b>1500</b>	
13)	Eva achète 7 BD à 9€ l'unité et 3 romans à 9€ l'unité.	Elle paye <b>. 90 .</b> €.	

	ÉNONCÉ	RÉPONSE	JURY
14)	Quel est le nombre 10 fois plus grand que 4 dixièmes ?	<b>4</b>	
15)		Le périmètre de cette figure est égal à <b>.. 11 ..</b> cm.	
16)	Le tiers de 27	<b>9</b>	
17)	J'ai 12 ans. J'ai 5 ans de moins que mon frère. <b>Quel âge a mon frère ?</b>	<b>.. 17 ..</b> ans	
18)	Quelle est l'aire de la figure A en unité d'aire (ua) ? 	<b>16 .</b> ua	
19)	Ajoute 1 dixième à 1,9.	<b>2</b>	
20)	Complète.	$\frac{3}{4}$ h = <b>.. 45 .</b> min	
21)	Écriture décimale de la moitié de 30 centièmes.	<b>0,15</b>	
22)	La moitié de 0,3	<b>0,15</b>	