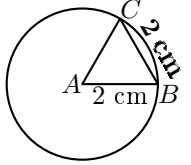


	ÉNONCÉ	RÉPONSE	JURY
21)	Tom achète 7 romans à 12 € et 3 BD à 12 €. Combien payera-t-il ?	120 €	
22)	$(7 \times 12) + (3 \times 12)$	120	
23)	Entoure la réponse possible.	Un camion pèse : 35 kg 3500 kg 35 dg	
24)	Entoure la réponse la plus précise. J'achète 150 petits pains à 0,95 € chacun.	Je paye environ : 15 € 100 € 150 €	
25)	Quel est le chiffre des unités de 58×27 ?	6	
26)	Un manège fait 2 tours en 30 s.	Il fait 4 tours en 1 min.	
27)	$42 \div 6$	7	
28)	$\frac{1}{3}$ de 15 L	5 L	
29)	Entoure les réponses possibles. Le maître veut répartir ses 35 élèves dans des groupes de même taille.	Il peut faire des groupes de : 2 3 5 7	
30)	A est le centre du cercle. Complète. 	Le périmètre du triangle ABC est égal à 6 cm	

NOM:

PRÉNOM:

SCORE: /30

CLASSE: **CM2**.....

✓ *Durée: 9 minutes*

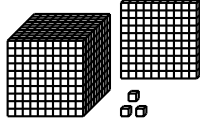
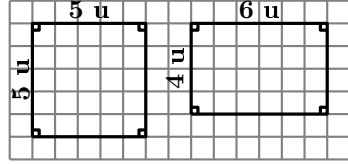
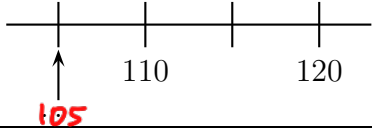
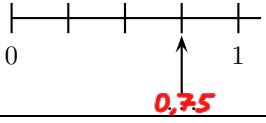
✓ *L'épreuve comporte 30 questions.*

✓ *L'usage de la calculatrice et du brouillon sont interdits. Il n'est pas permis d'écrire des calculs intermédiaires.*

SUJET CM2 JUIN 2019



	ÉNONCÉ	RÉPONSE	JURY
1)	3×6	18	
2)	Complète.	$25 = 5 \times 5$	
3)	La moitié de 50	25	
4)	$200 - 99$	101	
5)	Complète.	1 L = 100 cL	
6)	Entoure la bonne réponse. $2,5 \times 10$	2,50 20,50 25	
7)	Enlève une demi-heure à 2 h 10 min.	1 h 40 min	
8)	Combien y a-t-il de milliers dans un million ?	1000	
9)	6 gommes identiques pèsent 42 g.	3 gommes pèsent 21 g.	
10)	Le quart de 100	25	

	ÉNONCÉ	RÉPONSE	JURY
11)	Complète.	$0,71 + 0,29 = 1$	
12)	$23 + 1,2 + 0,8$	25	
13)	L'unité est le petit cube. 	Il y a 103 unités en tout.	
14)	Complète.	$642 = 64$ dizaines 2 unités	
15)	Complète.	$13 \text{ mm} + 8 \text{ cm} = 2,1 \text{ cm}$	
16)	VRAI ou FAUX ? 	Ces figures ont le même périmètre. <input checked="" type="checkbox"/> Vrai <input type="checkbox"/> Faux	
17)		Ces figures ont la même aire. <input type="checkbox"/> Vrai <input checked="" type="checkbox"/> Faux	
18)	Complète.		
19)	Complète.		
20)	18×5	90	