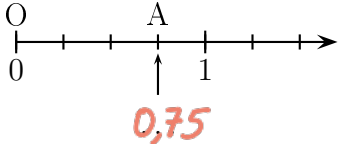


	ÉNONCÉ	RÉPONSE	JURY
23)	Je dois payer 4 euros 30 centimes. Je paie avec un billet de 5 euros.	On me rend .70. centimes.	
24)	Complète la suite de nombres.	2,50 - 2,75 - 3 - 3,25	
25)	Entoure la réponse du calcul 9×59	5 321 681 531	
26)	Complète.		
27)	Complète.	150 min = 2. h 30 min	
28)	3×8 dizaines =	240. unités	
29)	Complète.	3 m = 300. cm	
30)	$33 \div 3$	11	

NOM :

PRÉNOM :

SCORE : /30


CLASSE :

✓ *Durée : 9 minutes*

✓ *L'épreuve comporte 30 questions.*

✓ *L'usage de la calculatrice et du brouillon sont interdits. Il n'est pas permis d'écrire des calculs intermédiaires.*

SUJET CM1 - MARS 2025



La course aux nombres


**MINISTÈRE
DE L'ÉDUCATION
NATIONALE,
DE LA JEUNESSE
ET DES SPORTS**
Liberté
Égalité
Fraternité

ACADÉMIE
DE NORMANDIE

ACADÉMIE
DE VERSAILLES

ACADÉMIE
DE REIMS

ACADÉMIE
DE STRASBOURG

ACADÉMIE
DE RENNES

ACADÉMIE
DE NANTES

ACADÉMIE
DE DIJON

ACADÉMIE
DE NANCY-METZ

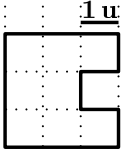
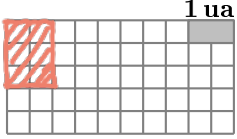
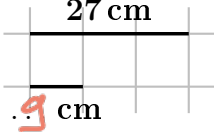
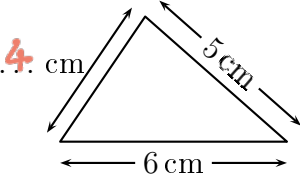
ACADÉMIE
DE TOULOUSE

ACADÉMIE
D'ORLÉANS-TOURS

ACADÉMIE
DE LYON



	ÉNONCÉ	RÉPONSE	JURY
1)	$17 + 8$	25	
2)	Complète.	$8 \times \underline{4} = 32$	
3)	Combien de dizaines dans 5 centaines ?	50 dizaines	
4)	Écris en chiffres : « mille-vingt-quatre »	1024	
5)	$542 - 11$	531	
6)	Il est 4h55. Dans une demi-heure, quelle heure sera-t-il ?	5 h 25 min	
7)	Le double de 16	32	
8)	Si 2 morceaux de sucre pèsent 10 g, alors	8 morceaux de sucre pèsent 40 g	
9)	Complète.	$1 + \frac{3}{10} = \frac{\underline{13}}{10}$	
10)	Entoure la bonne réponse.	Une voiture peut mesurer 40 cm 4 m 4 km	
11)	Le nombre 42 centaines est égal à	4200 unités	
12)	$7 + 7 + 7 + 7 + 7$	35	
13)	10 petites ficelles de longueur 3 cm sont mises bout à bout.	On obtient une longueur de 3 dm.	

	ÉNONCÉ	RÉPONSE	JURY
14)	$13 + 25 + 17$	55	
15)	Donne la longueur du contour de cette figure. 	14 u	
16)	Trace une figure d'aire 3 unités d'aire (ua). 		
17)	Complète.		
18)	La longueur du contour de ce triangle est de 15 cm. Complète.		
19)	Entoure la plus grande fraction.	$\frac{\underline{4}}{10}$ $\frac{8}{100}$	
20)	Le tiers de 12 œufs est	4 œufs	
21)	2×50	100	
22)	12×50	600	