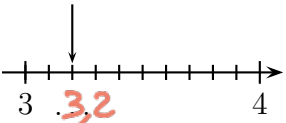
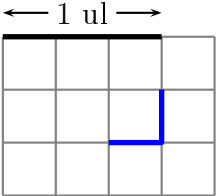


	ÉNONCÉ	RÉPONSE	JURY
23)	Complète.		
24)	Sachant que $48 \times 13 = 624$, complète.	$24 \times 13 = 312$	
25)	Complète par un nombre qui convient.	$5 < 5,5 < 6$	
26)	$3\ 000 - 80$	2920	
27)	Quelle est la longueur de la ligne bleue en unité de longueur (ul) ? 	$\frac{2}{3}$ ul	
28)	Complète.	$2\text{ mm} + 7\text{ cm} = 72\text{ mm}$	
29)	$12 \div 3$	4	
30)	Une usine fabrique des tasses de 2 tailles différentes. Pour chaque taille, 4 couleurs sont possibles.	Cette usine peut fabriquer 8 tasses différentes.	

NOM :

PRÉNOM :

SCORE : /30

CLASSE : CM1

✓ Durée : 9 minutes

✓ L'épreuve comporte 30 questions.

✓ L'usage de la calculatrice et du brouillon sont interdits. Il n'est pas permis d'écrire des calculs intermédiaires.

SUJET CM1 JUIN 2024



La course aux nombres

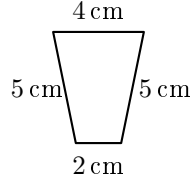
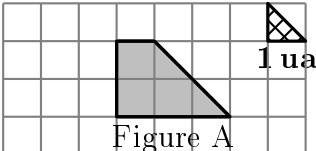
2024

MINISTÈRE DE L'ÉDUCATION NATIONALE, DE LA JEUNESSE ET DES SPORTS

ACADÉMIE DE NORMANDIE ACADÉMIE DE VERSAILLES ACADÉMIE DE REIMS ACADÉMIE DE STRASBOURG
ACADÉMIE DE RENNES ACADÉMIE DE NANTES ACADÉMIE DE DIJON ACADÉMIE DE NANCY-METZ
ACADÉMIE DE TOULOUSE ACADÉMIE D'ORLÉANS-TOURS ACADÉMIE DE LYON



	ÉNONCÉ	RÉPONSE	JURY
1)	4×8	32	
2)	$200 - 99$	101	
3)	Écris le nombre égal à 4 centaines et 20 dizaines	600	
4)	2 carrés de chocolat pèsent 8 g.	20... carrés de chocolat pèsent 80 g.	
5)	Complète.	$14 + 2 = \dots 8 \dots \times 2$	
6)	Avec 10€ j'achète un livre à 4,90€. Combien me rend-on ?	5,10...€	
7)	Complète.	$3 \times 7 = 21$	
8)	Un fleuriste a 70 roses. Combien de bouquets de 5 roses peut-il faire au maximum ?	14... bouquets	
9)	Complète.	1 L = 1000 mL	
10)	Entoure la réponse possible.	La hauteur d'une porte est : 20 cm <u>20 dm</u> 20 m	
11)	Entoure le plus grand nombre.	15 dixièmes <u>3 unités</u>	
12)	$5 \times 15 \times 2$	150	
13)	Eva achète 7 BD à 5€ l'unité et 3 romans à 5€ l'unité.	Elle paye 50...€.	

	ÉNONCÉ	RÉPONSE	JURY
14)	Quel est le nombre 10 fois plus grand que 3 centaines ?	3000	
15)		Le périmètre de cette figure est égal à 16... cm.	
16)	Le triple de 9	27	
17)	J'ai 12 ans. J'ai 5 ans de plus que mon frère. Quel âge a mon frère ?	7... ans	
18)	Quelle est l'aire de la figure A en unité d'aire (ua) ? 	8... ua	
19)	Ajoute 1 dizaine à 193.	203	
20)	Ajoute 20 min à 1 h 45 min	2 h 05... min	
21)	Complète.	$1,5 = \frac{15}{10}$	
22)	Écriture décimale de : $2 + \frac{15}{10}$	3,5	