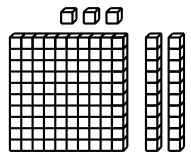
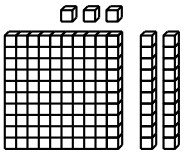


	ÉNONCÉ	RÉPONSE	JURY
21)	Voici un cube unité 	Il y a <b>.2</b> dizaines de cubes unités <b>toutes seules.</b>	
22)	Voici un cube unité 	Il y a <b>12</b> dizaines de cubes unités <b>en tout.</b>	
23)	Entoure le nombre le plus proche du résultat de $47 \times 97$ .	150 500 <b>5 000</b>	
24)	Encadre la fraction par deux nombres entiers qui se suivent.	<b>.1.</b> < $\frac{7}{4}$ < <b>.2.</b>	
25)	Toutes les balles sont au même prix. 9 balles coûtent 13 € 50 cents et 4 balles coûtent 6 €.	11 balles coûtent <b>16. €50.</b> cents	
26)	Donne deux autres écritures de $\frac{3}{2}$ .	<b>1,5 et <math>\frac{6}{4}</math></b>	
27)	Quel est le nombre 10 fois plus grand que 7 ?	<b>70</b>	
28)	Le quart de 44	<b>11</b>	
29)	Complète.	1 L = <b>100</b> cL	
30)	Une usine fabrique des cahiers. 5 couleurs et 3 tailles sont possibles.	Elle peut fabriquer <b>15.</b> cahiers différents.	

NOM: .....

PRÉNOM: .....

SCORE: /30

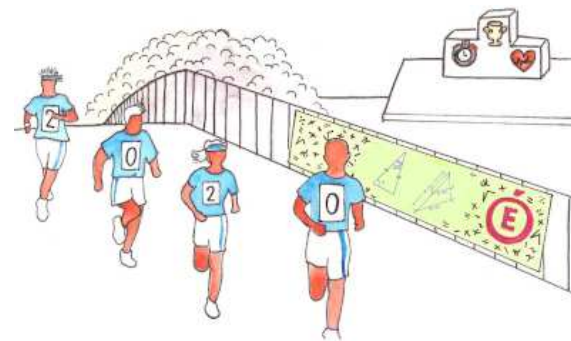
CLASSE: **...C.M.I...**

✓ *Durée: 9 minutes*

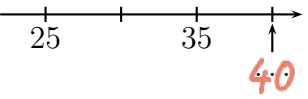
✓ *L'épreuve comporte 30 questions.*

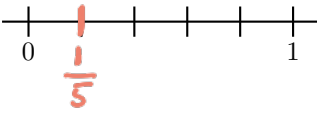

✓ *L'usage de la calculatrice et du brouillon sont interdits. Il n'est pas permis d'écrire des calculs intermédiaires.*

## SUJET CM1 MARS 2020



Lucie Ruck, élève de 1<sup>re</sup>, lycée Fustel de Coulanges - Strasbourg

	ÉNONCÉ	RÉPONSE	JURY
1)	$5 \times 9$	45	
2)	Complète.	$21 = 3 \times 7$ .	
3)	La moitié de 26	13	
4)	Complète.		
5)	10 pirates se partagent équitablement 53 pièces d'or. <b>Complète.</b>	Chacun peut avoir au maximum 5 pièces. Et il reste alors 3 pièces.	
6)	$35 + 19$	54	
7)	Complète.	2 jours = 48 heures	
8)	J'ai reçu 27 € puis 73 €.	J'ai reçu 100 € en tout.	
9)	$3 \times 25$	75	
10)	18 billes pèsent 100 g.	9 billes pèsent 50 g.	

	ÉNONCÉ	RÉPONSE	JURY
11)	Mon four indiquait 20°C. Maintenant il indique 100°C.	Sa température a augmenté de 80°C.	
12)	Entoure le plus petit nombre.	un tiers $\frac{1}{2}$	
13)	$320 - 101$	219	
14)	$64 \times 20$	1280	
15)	La moitié de 1 kg	500 g	
16)	Complète la suite.	2h25min 2h27min 2h29min 2h31min	
17)	Lise pèse 20 kg. Théo pèse 2 fois plus qu'elle.	Théo pèse 40 kg.	
18)	Complète par un nombre qui convient.	$3 < 3,5 < 4$	
19)	Place $\frac{1}{5}$ .		
20)	Calcule le périmètre de ce carré:  ← 3 dm →	12. dm	