

	ÉNONCÉ	RÉPONSE	JURY
21)	Un train électrique fait un tour de circuit en 25 s.	Il fait 2 tours en 50 s.	
22)	Un train électrique fait un tour de circuit en 25 s.	Il fait 4 . tours en 100 s.	
23)	Compléter la suite logique.	50 / 100 / 150 / 200	
24)	9×95 Entoure le nombre le plus proche du résultat.	100 1 000 10 000	
25)	341×7 Entoure la bonne réponse sans effectuer précisément le calcul.	1 117 2 387 7 341	
26)	2 kg de pommes coûtent 3 €. 5 kg de ces mêmes pommes coûtent 7,50 €.	7 kg de pommes coûtent 10,50 €.	
27)	$45 \div 5$	9	
28)	Un quart de 8 €	2 . €	
29)	15 élèves ont été répartis en groupes de 5 élèves.	Il y a 3 . groupes.	
30)	Dans un village, on a le choix entre 3 couleurs pour peindre les murs et 2 couleurs pour la porte d'entrée. En choisissant 1 couleur pour les murs et 1 couleur pour la porte, combien de maisons différentes peut-on obtenir ?	6	

NOM:

PRÉNOM:

SCORE: /30

CLASSE: **CM1**.....

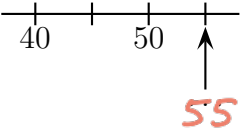
✓ *Durée: 9 minutes*

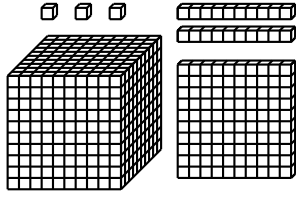
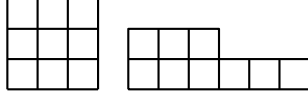
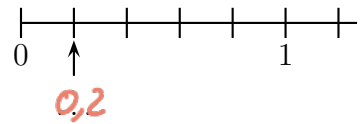
✓ *L'épreuve comporte 30 questions.*

✓ *L'usage de la calculatrice et du brouillon sont interdits. Il n'est pas permis d'écrire des calculs intermédiaires.*

SUJET CM1



	ÉNONCÉ	RÉPONSE	JURY
1)	7×3	21	
2)	Complète.	$49 = 7 \times 7$	
3)	La moitié de 18	9	
4)	$17 - 9$	8	
5)	$22 + 19$	41	
6)	Complète.	$45 + 15 = 60$	
7)	Ajoute un quart d'heure à 1 h 45 min.	2 h	
8)	Complète.		
9)	4 gommes pèsent 50 g.	8 gommes pèsent 100 g.	
10)	Combien y-a-t-il de dizaines en tout dans 234 ?	23. dizaines	

	ÉNONCÉ	RÉPONSE	JURY
11)	Combien de centaines dans un millier ?	10. centaines	
12)	Complète.	$100 \times 10 = 1000$	
13)	<p>L'unité est le petit cube (☐).</p> 	Il y a 123 unités en tout.	
14)	Au judo, il y a 10 garçons et 2 fois plus de filles.	Il y a 30 enfants en tout.	
15)	Complète.	$700 \text{ g} + 300 \text{ g} = 1. \text{ kg}$	
16)	<p>VRAI ou FAUX</p> <p>Coche la bonne réponse.</p> 	<p>Ces figures ont le même périmètre.</p> <p><input type="checkbox"/> Vrai <input checked="" type="checkbox"/> Faux</p>	
17)		<p>Ces figures ont la même aire.</p> <p><input checked="" type="checkbox"/> Vrai <input type="checkbox"/> Faux</p>	
18)	Complète.		
19)	12×5	60	
20)	Entoure la réponse possible.	La hauteur d'une table est: 80 cm 80 m 80 km	