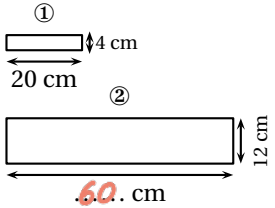


	ÉNONCÉ	RÉPONSE	JURY
21)	Le quart de 12 œufs	...3... œufs	
22)	Le quart de 120 g	30. g	
23)	Un-million-vingt-cinq-mille	1 025 000	
24)	3 sucettes coûtent 1 € 50 centimes. Combien coûte 1 sucette ?	50 centimes	
25)	Le rectangle ② est un agrandissement du ①. Complète.		
26)	32 centaines	3 200	
27)	J'ai 12 ans. J'ai 5 ans de plus que mon frère. Quel âge a mon frère ?	..7... ans	
28)	4 mm + 7 cm =	..7.4. mm	
29)	2 h 15 min – 30 min =	..1. h 45. min	
30)	J'ai 3 T-Shirts différents et 2 pantalons différents. Complète.	Je peux m'habiller de ..6.. façons différentes.	

NOM:

PRÉNOM:

SCORE: /30

CLASSE: ..CM1.....

✓ *Durée: 9 minutes*

✓ *L'épreuve comporte 30 questions.*

✓ *L'usage de la calculatrice et du brouillon sont interdits. Il n'est pas permis d'écrire des calculs intermédiaires.*

SUJET CM1

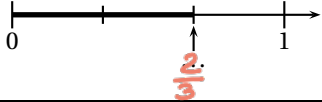




Région académique
NORMANDIE



Région académique
GRAND EST



	ÉNONCÉ	RÉPONSE	JURY
1)	7×5	35	
2)	$23 + 17$	40	
3)	Complète. Dans 20300, il y a 203. centaines.		
4)	$103 - 11$	92	
5)	Complète. $4 \times \text{.7...} = 28$		
6)	Ajoute un quart d'heure à 2 h 20 min.	.2... h 35... min	
7)	La moitié de 52	26	
8)	Complète par une fraction.		
9)	12 vis pèsent 30 g.	24 vis pèsent .60. g.	
10)	$36 \div 4$	9	
11)	$(7 \times 100) + (3 \times 1)$	703	
12)	23 unités 5 dizaines =	73.. unités	

	ÉNONCÉ	RÉPONSE	JURY
13)	Complète.		
14)	4×25	100	
15)	Un fleuriste a 100 roses. Combien de bouquets de 20 roses peut-il faire au maximum ?	5	
16)	La moitié de 1	0,5 ou $\frac{1}{2}$	
17)	Quel est le nombre 10 fois plus grand que 3 centaines ?	3000	
18)	Complète.	 Il y a .21. fleurs.	
19)	Le double de 19	38	
20)	Encadre la fraction par 2 entiers consécutifs.	..2... < $\frac{5}{2}$ < .3...	