

	ÉNONCÉ	RÉPONSE	JURY
21)	Un quart de 12 œufs	..3.. œufs	
22)	Trois quarts de 120 g	..90.. g	
23)	Écris en chiffre : deux-millions-trois	2 000 003	
24)	Il me manque 3 € pour acheter une BD à 12 €.	J'ai ..9.. €.	
25)	5 vis pèsent 15 g. <b>Combien pèse 1 vis ?</b>	..3.. g	
26)	Complète.	800 g + 200 g = ...1.. kg	
27)	Léo et Lisa ont ensemble 10 ans.	Dans 5 ans, il auront ensemble 20.. ans.	
28)	Entoure la réponse possible.	La hauteur de la salle de classe est de : 3 km    30 cm <u>3 m</u>	
29)	Une pile de 6 livres identiques a une hauteur de 10 cm. Complète.	Une pile de 3 de ces livres a une hauteur de ..5.. cm.	
30)	Léo a 36 billes. Zoé en a 6 fois moins.	Zoé a ..6.. billes.	

NOM: .....

PRÉNOM: .....

SCORE: /30

CLASSE: ..C.M.I.....

✓ *Durée: 9 minutes*

✓ *L'épreuve comporte 30 questions.*

✓ *L'usage de la calculatrice et du brouillon sont interdits. Il n'est pas permis d'écrire des calculs intermédiaires.*

### SUJET CM1 - JUIN 2018

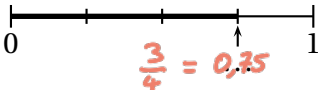


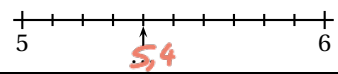
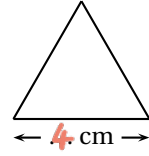
Région académique  
NORMANDIE



Région académique  
GRAND EST



	ÉNONCÉ	RÉPONSE	JURY
1)	$58 + 9$	67	
2)	$300 - 101$	199	
3)	$8 + 8 + 8 + 8$	32	
4)	$9 \times 3$	27	
5)	Complète.	$4 \times \dots 8 \dots = 32$	
6)	Enlève une demi-heure à 1 h 10 min.	40 min	
7)	Le quart de 32	8	
8)	7 vis pèsent 15 g.	.14... vis pèsent 30 g.	
9)	Complète.		
10)	$45 \div 3$	15	
11)	Écris autrement $\frac{3}{10}$ .	0,3	
12)	$3 + \frac{5}{10}$	3,5 ou $\frac{35}{10}$	

	ÉNONCÉ	RÉPONSE	JURY
13)	Complète.		
14)	Avec 120 roses, un fleuriste fait 10 bouquets identiques.	Il y a .12.. roses dans chaque bouquet.	
15)	$1 \div 2$	0,5 ou $\frac{1}{2}$	
16)	Le <b>périmètre</b> de ce triangle équilatéral est de 12 cm. Complète.		
17)	Encadre 5,4 par deux entiers qui se suivent.	...5... < 5,4 < ...6..	
18)	Quel est le nombre 100 fois plus grand que 2 dizaines ?	2000	
19)	$2 \times 1,5$	3	
20)	Entoure le plus grand nombre.	$\frac{1}{2}$ 1,1	