
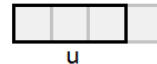
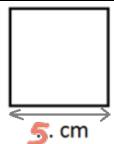

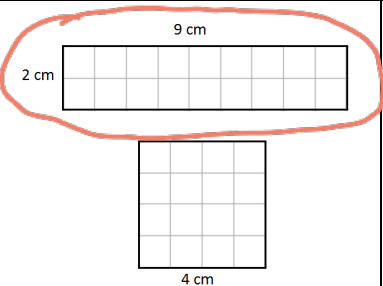


	Enoncé	Réponse	Jury
1	8×8	64	
2	La moitié de 32	16	
3	$(6 \times 1\,000) + (3 \times 10)$	6030	
4	Complète.		
5	$27 - 9$	18	
6	$100 - 19$	81	
7	Ajoute un quart-heure à 2 h 50 min	3 h 05 min	
8	A quelle fraction de u correspond la partie grisée ? 	$\frac{4}{3}$	
9	12 feutres coûtent 6 €. Combien coûtent 6 feutres ?	3 €	
10	Complète.	$77 - \cancel{27} = 50$	

	Enoncé	Réponse	Jury
11	Complète.	$10. \times 23 = 230$	
12	Le chiffre des centaines de 35 801	8	
13	Ecriture décimale de $2 + \frac{3}{10} + \frac{5}{100}$	2,35	
14	Le triple de 12	36	
15	24 élèves se mettent par groupe de 3. Combien y-a-t-il de groupes ?	8	
16	Complète.	$140 \text{ cm} = 1,4 \text{ m}$	
17	Le périmètre de ce carré est de 20 cm. Complète.		
18	Combien faut-il de pièces de 10 centimes pour avoir 1,70 € ?	17	
19	Dans 48 combien de fois 8 ?	6	
20	Entoure la plus grande fraction.	$\frac{3}{4}$ $\frac{3}{2}$	

	Énoncé	Réponse	Jury
21	60 : 2	30	
22	60 : 4	15	
23	Complète.		
24	Encadre 4,8 par deux entiers consécutifs.	4... < 4,8 < 5...	
25	Ajoute 55 min à 2 h 06 min	3 h 01 min	
26	Complète.	2500 g = 2,5 kg	
27	3 croissants coûtent 3,60 € Combien coûte un croissant ?	1,20 €	
28	$0,5 + \frac{1}{2} + \frac{1}{2}$	1,5 ou $\frac{3}{2}$	
29	Il faut 6 œufs pour faire des crêpes pour 9 personnes. Combien faut-il d'œufs pour 3 personnes ?	2... oeufs	
30	Entoure la figure qui a la plus grande aire.		

NOM: _____ PRÉNOM: _____

CLASSE: CM1

SCORE: ___ /30

✓ **Durée : 9 minutes**

✓ *L'épreuve comporte 30 questions.*

✓ *L'usage de la calculatrice et du brouillon sont interdits.*

✓ *Il n'est pas permis d'écrire des calculs intermédiaires.*



JUIN

CM1



MINISTÈRE
DE L'ÉDUCATION NATIONALE,
DE L'ENSEIGNEMENT SUPÉRIEUR
ET DE LA RECHERCHE

