

NOM : .....


PRÉNOM : .....

CLASSE : ...**CE2**.....

SCORE : / 20


- ✓ *Durée : 10 minutes*
- ✓ *L'épreuve comporte 20 questions.*
- ✓ *L'usage de la calculatrice et du brouillon sont interdits.  
Il n'est pas permis d'écrire des calculs intermédiaires.*

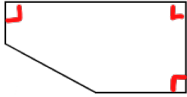
## SUJET CE2 MARS 2023





# La course aux nombres

  
**MINISTÈRE  
DE L'ÉDUCATION  
NATIONALE,  
DE LA JEUNESSE  
ET DES SPORTS**  
*Liberté  
Égalité  
Fraternité*

ACADÉMIE DE NORMANDIE	ACADÉMIE DE VERSAILLES	ACADÉMIE DE REIMS	ACADÉMIE DE STRASBOURG
ACADÉMIE DE RENNES	ACADÉMIE DE NANTES	ACADÉMIE DE DIJON	ACADÉMIE DE NANCY-METZ
ACADÉMIE DE TOULOUSE	ACADÉMIE D'ORLÉANS-TOURS	ACADÉMIE DE LYON	

	Énoncé	Réponse	Jury
1)	Quelle est la moitié de 620 ?	<b>310.</b>	
2)	Complète :	$24 + 9 = \mathbf{33}$	
3)	Quel nombre obtiens-tu en ajoutant 12 dizaines à 75 ?	<b>195.</b>	
4)	Combien la figure semble-t-elle avoir d'angles droits ?	 <b>..3..</b> angles droits	
5)	Dans un parking, il y a 4 voitures et 2 motos. Combien comptes-tu de roues ?	<b>.20.</b> roues	
6)	En utilisant 7, 4, et 6, quel est le nombre le plus petit que tu peux écrire ?	<b>467</b>	
7)	Le maçon charge 4 sacs de 25 kg de ciment dans son camion. Quelle est la masse du chargement ?	<b>.100.</b> kg	
8)	entoure le résultat de $4 \times 5$ centaines	20 200 <b>2000</b>	
9)	Complète :	$2\ 100 + \mathbf{2\ 900} = 5\ 000$	
10)	Bobby a 200 €. Il a 50 € de moins que sa sœur Lucie. Combien d'argent Lucie a-t-elle ?	<b>250.</b> €	

	Énoncé	Réponse	Jury
11)	Entoure le nombre le plus proche de 1 010	1015 999 <b>1007</b>	
12)	Quel est le double de ce nombre ?	 <b>.150.</b>	
13)	Combien mesure une voiture ? Entoure le résultat	4 mm <b>4 m</b> 4 cm	
14)	Des joueurs se partagent 24 billes équitablement. Chacun reçoit 6 billes. Combien y a-t-il de joueurs ?	<b>...4..</b> joueurs	
15)	Ecris un nombre qui s'écrit avec deux chiffres « 7 » et dans lequel on n'entend pas « dix » quand on le dit.	<b>707</b>	
16)	Complète :	$99 + 101 = \mathbf{.200}$	
17)	Complète :		
18)	Calcule :	$1\ 000 - 50 = \mathbf{.950}$	
19)	Complète :	$7 \times \mathbf{.8} \dots = 56$	
20)	Entoure la pendule qui indique l'heure la plus proche de 9 heures.	