

NOM:

PRÉNOM:

SCORE: /20


CLASSE: **CE2**

✓ *Durée: 10 minutes*

✓ *L'épreuve comporte 20 questions.*

✓ *L'usage de la calculatrice et du brouillon sont interdits. Il n'est pas permis d'écrire des calculs intermédiaires.*

SUJET CE2 MARS 2022


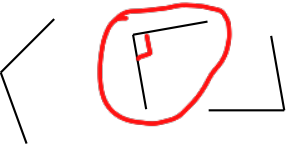


La course aux nombres


MINISTÈRE
DE L'ÉDUCATION
NATIONALE,
DE LA JEUNESSE
ET DES SPORTS
*Liberté
Égalité
Fraternité*

ACADÉMIE DE NORMANDIE ACADÉMIE DE VERSAILLES ACADÉMIE DE REIMS ACADÉMIE DE STRASBOURG
ACADÉMIE DE RENNES ACADÉMIE DE NANTES ACADÉMIE DE DIJON ACADÉMIE DE NANCY-METZ
ACADÉMIE DE TOULOUSE ACADÉMIE D'ORLÉANS-TOURS ACADÉMIE DE LYON



	ÉNONCÉ	RÉPONSE	JURY
1)	Quelle est la moitié de 840 ?	420	
2)	Complète.	700 800 900 1000 1100 	
3)	Quel nombre est égal à 9 unités et 10 centaines ?	1009	
4)	Entoure l'angle droit.		
5)	Dans un champ, il y a 3 chevaux et 5 poules. Combien comptes-tu de pattes ?	. 22 . pattes	
6)	En utilisant 4, 6, et 7, quel est le nombre le plus grand que tu peux écrire ?	764	
7)	Un coureur a fait 3 tours d'un stade de 400 mètres. Quelle distance a-t-il parcourue ?	.. 1200 . mètres	
8)	Entoure le résultat de 6×5 dizaines.	30 300 3 000	
9)	Complète.	$3\,600 + 4\,400 = 8\,000$	
10)	Lilou a 17 ans. Elle a 5 ans de moins que son frère Léo. Quel âge a Léo ?	. 22 . ans	

	ÉNONCÉ	RÉPONSE	JURY
11)	Entoure le nombre le plus proche de 9 080.	10 000 1 999 8 980	
12)	Quel est le double de 250 ?	500	
13)	Une voiture pèse environ 1 000 ... Coche la bonne unité.	<input type="checkbox"/> grammes. <input checked="" type="checkbox"/> kilogrammes. <input type="checkbox"/> tonnes.	
14)	6 enfants se partagent 54 cartes équitablement. Combien de cartes aura chaque enfant ?	9 . cartes	
15)	Écris un nombre dans lequel on entend vingt quand on le dit mais qui ne contient ni le chiffre 2, ni le chiffre 8.	90	
16)	Complète.	$392 + 199 = 591 .$	
17)	Le cours de piano commence à 16 h 50 et se termine à 17 h 20. Combien de temps dure le cours de piano ?	30 minutes	
18)	Complète.	$7\,439 - 5\,200 = 2\,239$	
19)	Dans 42, combien de fois 6 ?	7	
20)	Entoure la pendule qui indique : 7 heures moins le quart.	