

Nom :

Prénom :

Score : /20


Classe : ...**CE2**.....

✓ *Durée : 10 minutes*

✓ *L'épreuve comporte 20 questions.*

✓ *L'usage de la calculatrice et du brouillon sont interdits. Il n'est pas permis d'écrire des calculs intermédiaires.*

Sujet CE2 mai/juin 2022




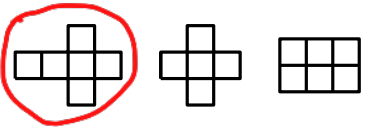
2022



La course aux nombres


MINISTÈRE
DE L'ÉDUCATION
NATIONALE,
DE LA JEUNESSE
ET DES SPORTS
Liberté
Égalité
Fraternité

ACADÉMIE DE NORMANDIE	ACADÉMIE DE VERSAILLES	ACADÉMIE DE REIMS	ACADÉMIE DE STRASBOURG
ACADÉMIE DE RENNES	ACADÉMIE DE NANTES	ACADÉMIE DE DIJON	ACADÉMIE DE NANCY - METZ
ACADÉMIE DE TOULOUSE	ACADÉMIE D'ORLÉANS -TOURS	ACADÉMIE DE LYON	

	Énoncé	Réponse	Jury
1)	La moitié de 1 200	600	
2)	Complète.	170 180 190 205 	
3)	Écris 15 centaines en chiffres.	1500	
4)	Entoure le patron du cube.		
5)	Dans un garage, il y a 3 voitures et 1 moto. Combien comptes-tu de roues ?	..14.. roues	
6)	En utilisant seulement le chiffre 1, écris un nombre plus grand que 999.	1111	
7)	60×5	300	
8)	Coche le résultat de 4×3 centaines.	<input type="checkbox"/> 120 <input checked="" type="checkbox"/> 1 200	
9)	Complète.	$1750 + 250 = 2000$	
10)	Le tigre vit 15 ans. Le rhinocéros vit 3 fois plus longtemps. Combien de temps vit le rhinocéros ?	..45.. ans	

	Énoncé	Réponse	Jury
11)	Entoure le nombre le plus proche de 1 990.	2 100 2010 1 900	
12)	Le double de 125	250	
13)	Coche la longueur possible d'un autocar.	<input type="checkbox"/> 130 cm <input checked="" type="checkbox"/> 13 m <input type="checkbox"/> 130 m	
14)	On distribue équitablement 32 cartes à 4 joueurs. Combien de cartes aura chaque joueur ?	..8.. cartes	
15)	Écris un nombre en chiffres dans lequel on entend « cent » et « mille ».	1100	
16)	$398 + 102$	500	
17)	Un cours commence à 9 h 40 et se termine à 10 h 20. Combien de temps dure ce cours ?	40 minutes	
18)	$739 - 728$	11	
19)	Dans 45, combien de fois 5 ?	9	
20)	Entoure la pendule qui indique 11 heures moins le quart.	