

NOM :


PRÉNOM :

CLASSE : **CE1**

SCORE : / 20

- ✓ *Durée : 10 minutes*
- ✓ *L'épreuve comporte 20 questions.*
- ✓ *L'usage de la calculatrice et du brouillon sont interdits.
Il n'est pas permis d'écrire des calculs intermédiaires.*

SUJET CE1 JUIN 2025








La course aux nombres


MINISTÈRE
DE L'ÉDUCATION
NATIONALE,
DE LA JEUNESSE
ET DES SPORTS
*Liberté
Égalité
Fraternité*

ACADÉMIE DE NORMANDIE ACADÉMIE DE VERSAILLES ACADÉMIE DE REIMS ACADÉMIE DE STRASBOURG
ACADÉMIE DE RENNES ACADÉMIE DE NANTES ACADÉMIE DE DIJON ACADÉMIE DE NANCY-METZ
ACADÉMIE DE TOULOUSE ACADÉMIE D'ORLÉANS-TOURS ACADÉMIE DE LYON



	Énoncé	Réponse	Jury
1)	Calcule.	$38 + 12 = .50..$	
2)	Entoure les pièces pour faire 1€.		
3)	Ecris en chiffres le résultat de : 3 dizaines + 17 unités	$.47.$	
4)	Léo est sur la case 22 du jeu de l'oie. Il joue et arrive sur la case 31. De combien de cases a-t-il avancé ?	Il a avancé de $.9$ cases.	
5)	Entoure le bon personnage : il est après le deuxième, avant le cinquième, mais ce n'est pas le troisième.		
6)	Calcule.	$50 - 21 = 29..$	
7)	Entoure le nombre le plus proche de 565.	<u>583</u> 543 483	
8)	La moitié de 140	$.70.$	
9)	Si j'ajoute trois dizaines je trouve 100. Quel est le nombre de départ ?	$.70.$	
10)	Entoure la bonne réponse. Cet été, j'ai grandi de :	<u>2 cm</u> 2 m 2 km	

	Énoncé	Réponse	Jury
11)	Complète cette suite logique.	900 <u>898</u> 896 894 892	
12)	Complète.	$5 \times 8 \dots = 40$	
13)		Il y a $.2.$ polygones parmi ces figures.	
14)	Dans ce nombre, il y a deux fois le chiffre 1 et une fois le chiffre 4. Il est plus petit que 130.	Ce nombre est $.114.$	
15)	Noé a couru 19 minutes. C'est 6 minutes de moins qu'Imène. Combien de minutes Imène a-t-elle couru ?	Imène a couru $.25.$ minutes.	
16)	Quel est mon score ? 	$.140.$	
17)	Il y a 27 fleurs. Combien de bouquets de 9 fleurs peut-on faire au maximum ?	On peut faire $.3.$ bouquets.	
18)	Entoure l'objet qui pèse plus lourd qu'un élève.		
19)	Calcule.	$20 + 30 + 42 = .92..$	
20)	Complète.	500 515 <u>530</u> 545 560 575	