

NOM :


PRÉNOM :

CLASSE : **CE1**

SCORE : / 20

- ✓ *Durée : 10 minutes*
- ✓ *L'épreuve comporte 20 questions.*
- ✓ *L'usage de la calculatrice et du brouillon sont interdits.*
Il n'est pas permis d'écrire des calculs intermédiaires.

SUJET CE1 MARS 2024


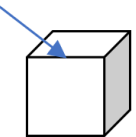


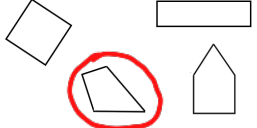
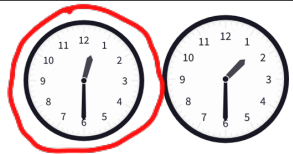
La course aux nombres


**MINISTÈRE
DE L'ÉDUCATION
NATIONALE,
DE LA JEUNESSE
ET DES SPORTS**
*Liberté
Égalité
Fraternité*

ACADÉMIE DE NORMANDIE ACADÉMIE DE VERSAILLES ACADÉMIE DE REIMS ACADÉMIE DE STRASBOURG
ACADÉMIE DE RENNES ACADÉMIE DE NANTES ACADÉMIE DE DIJON ACADÉMIE DE NANCY-METZ
ACADÉMIE DE TOULOUSE ACADÉMIE D'ORLÉANS-TOURS ACADÉMIE DE LYON



	Énoncé	Réponse	Jury
1)	Le double de 50 est100.....	
2)	Entoure la bonne réponse.	1 kg = 1 000 g 10 kg = 1 000 g	
3)	Calcule.	90 + 50 = ...140.....	
4)	Léo est sur la case 22 du jeu de l'oie. Il lance les dés 	Il arrive sur la case ...30..	
5)	Mon chiffre des unités est 2 et j'ai 3 centaines. Qui suis-je ?	203 23 302	
6)	Entoure le nombre qui est entre 885 et 903	929 987 894	
7)	Quel nombre trouves-tu en ajoutant 15 unités à 2 dizaines ?35.....	
8)	Entoure la longueur d'un stylo.	15 mm 15 m 15 cm	
9)	Écris en chiffres deux-cent-soixante-quatorze274....	
10)	Que montre la flèche ? Coche la bonne réponse.	 <input type="checkbox"/> un sommet <input type="checkbox"/> une face <input checked="" type="checkbox"/> une arête	
11)	Complète cette suite logique.	120 115 110 105 100	

	Énoncé	Réponse	Jury			
12)	Liam a fait tomber sa caisse de 40 cubes. Il en reste 25 dans la caisse. Combien de cubes sont en dehors de la caisse ?15... cubes				
13)	La moitié de 80 est40.....				
14)	Écris le plus grand nombre possible en utilisant une fois chaque chiffre <table border="1" data-bbox="1355 529 1594 577"> <tr> <td>3</td> <td>9</td> <td>6</td> </tr> </table>	3	9	6963.....	
3	9	6				
15)	Entoure la figure qui a un seul angle droit.					
16)	Calcule.	100 - 92 = ..8..				
17)	Alex commande 4 paquets de 8 bonbons. Combien de bonbons va-t-il recevoir en tout ?32.. bonbons				
18)	Entoure la pendule qui indique 12h30.					
19)	Combien y a-t-il de fleurs ? * * * * * * * * * * * * * * *21.....				
20)	Dans le parking, il y a 5 voitures. Combien comptes-tu de roues ?	...20... roues				