

NOM :


PRÉNOM :

CLASSE : **CE1**

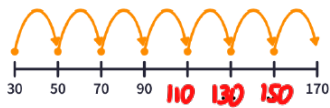
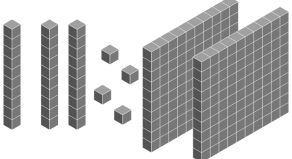

SCORE : / 20

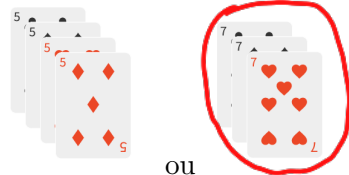

- ✓ *Durée : 10 minutes*
- ✓ *L'épreuve comporte 20 questions.*
- ✓ *L'usage de la calculatrice et du brouillon sont interdits.
Il n'est pas permis d'écrire des calculs intermédiaires.*

SUJET CE1 MARS 2023



La course aux nombres

| | Énoncé | Réponse | Jury |
|-----|--|--|------|
| 1) | Le double de 60 est | 120 | |
| 2) | Entoure la bonne réponse | 1 m = 10 cm 100 cm = 1 m | |
| 3) | Complète : |  | |
| 4) | Max est sur la case 17 du jeu de l'oie. Il avance de 6 cases puis recule de 3 cases. Sur quelle case arrive-t-il ? | Il arrive sur la case 20 | |
| 5) | Écris en chiffres : |  234 | |
| 6) | Entoure le nombre le plus proche de 402. | 399 409 390 | |
| 7) | Quel nombre trouves-tu en ajoutant 15 dizaines à 35 ? | 185 | |
| 8) | Entoure la masse d'un crayon : | 10 g ou 10 kg | |
| 9) | Écris en chiffres : six-cent-quat-vingt-douze | 692 | |
| 10) | Que montre la flèche ? Entoure la bonne réponse  | un sommet une face | |

| | Énoncé | Réponse | Jury |
|-----|---|---|------|
| 11) | Complète cette suite logique. | 205 ; 203 ; 201 ; 199 ; 197 | |
| 12) | Dans un poulailler, il y a 75 poules et des poussins. En tout, il y a 100 animaux. Combien y-a-t-il de poussins ? | 25 poussins | |
| 13) | La moitié de 50 est : | 25 | |
| 14) | Écris un nombre dans lequel on entend dix mais qui s'écrit sans le chiffre 1. | 70 | |
| 15) | Entoure le paquet de cartes qui a le plus de points. |  ou | |
| 16) | Complète : | 900 - 500 = 400 | |
| 17) | Le fleuriste a composé 3 bouquets de 5 roses. Combien de roses a-t-il utilisées ? | 15 roses. | |
| 18) | Dessine les aiguilles de la pendule pour indiquer 16 h 30. |  | |
| 19) | Complète : | 6 × 4 = 24 | |
| 20) | Dans le pré, il y a 6 lapins. Combien comptes-tu d'oreilles ? | 12 oreilles | |