

NOM : .....


PRÉNOM : .....

CLASSE : ...**CE.1**.....

SCORE : / 20

- ✓ *Durée : 10 minutes*
- ✓ *L'épreuve comporte 20 questions.*
- ✓ *L'usage de la calculatrice et du brouillon sont interdits.  
Il n'est pas permis d'écrire des calculs intermédiaires.*

## SUJET CE1 Mai-Juin 2023



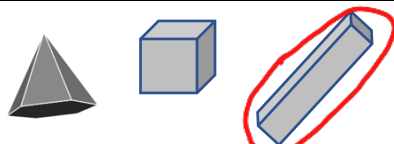



## La course aux nombres

  
MINISTÈRE  
DE L'ÉDUCATION  
NATIONALE,  
DE LA JEUNESSE  
ET DES SPORTS  
*Liberté  
Égalité  
Fraternité*

ACADÉMIE DE NORMANDIE    ACADÉMIE DE VERSAILLES    ACADÉMIE DE REIMS    ACADÉMIE DE STRASBOURG  
ACADÉMIE DE RENNES    ACADÉMIE DE NANTES    ACADÉMIE DE DIJON    ACADÉMIE DE NANCY-METZ  
ACADÉMIE DE TOULOUSE    ACADÉMIE D'ORLÉANS-TOURS    ACADÉMIE DE LYON



	Énoncé	Réponse	Jury
1	Le double de 25 est	... <b>50</b> ...	
2	Entoure la bonne réponse.	1 kilogramme = 100 grammes <b>1 kilogramme = 1 000 grammes</b>	
3	Complète avec le bon nombre.	700 800 900 <b>1 000</b> 1 100 	
4	Un coureur est à la dixième place. Il dépasse trois coureurs. Avant la ligne d'arrivée, un coureur lui passe devant. A quelle place arrive-t-il ?	Il arrive à la <b>8<sup>ème</sup></b> place.	
5	Quel est mon score ? Entoure la bonne réponse.	 10 640 <b>460</b> 406	
6	Entoure le nombre le plus proche de 799.	809 795 <b>802</b>	
7	Mon chiffre des dizaines est 9. Mon chiffre des unités est 9. Je viens avant 603 et suis le plus grand possible. Qui suis-je ?	... <b>599</b> ...	
8	Entoure la longueur d'un stylo.	15 m 15 dm <b>15 cm</b>	
9	Ajoute dix au nombre <i>cinq-cent-soixante-dix-huit</i> . Ecris-le en chiffres.	... <b>588</b> ...	
10	Entoure le pavé droit qui n'est pas un cube.		

	Énoncé	Réponse	Jury
11	Complète cette suite logique.	690 ; 695 ; <b>700</b> ; <b>705</b> ; 710	
12	Dans mon porte-monnaie, j'ai 100 euros. J'achète une bande dessinée à 25 euros. Combien d'argent reste-t-il dans mon porte-monnaie ?	... <b>75</b> ... euros.	
13	La moitié de 140 est	... <b>70</b> ...	
14	Ecris les nombres qui sont compris entre 150 et 190 et qui se terminent par 8.	<b>158 ; 168 ; 178 ; 188</b>	
15	Ecris le nombre qui correspond à 6 dizaines et 32 unités.	... <b>92</b> ...	
16	Complète.	864 - 30 = .. <b>834</b>	
17	Le jardinier a planté 6 rangées de 4 salades. Combien de salades a-t-il plantées ?	Il a planté .. <b>24</b> .. salades.	
18	Léa part à 8h30, elle met une demi-heure pour arriver au gymnase. Dessine les aiguilles de la pendule pour indiquer l'heure à laquelle elle arrive.		
19	Complète.	3 x <b>8</b> = 24	
20	Dans le parking, il y a 7 voitures. Combien comptes-tu de roues ?	... <b>28</b> ... roues.	